

PRESEK

List za mlade matematike, fizike, astronome in računalnikarje

ISSN 0351-6652

Letnik **26** (1998/1999)

Številka 4

Strani 226-229

Primož Potočnik:

KRIŽCI IN KROŽCI OŽIVLJENI

Ključne besede: zanimivosti, razvedrilo, matematika, rekreacijska matematika, matematične igre, kombinatorika, permutacije, avtomorfizmi.

Elektronska verzija: <http://www.presek.si/26/1376-Potocnik.pdf>

© 1999 Društvo matematikov, fizikov in astronomov Slovenije

© 2010 DMFA - založništvo

Vse pravice pridržane. Razmnoževanje ali reproduciranje celote ali posameznih delov brez poprejšnjega dovoljenja založnika ni dovoljeno.

KRIŽCI IN KROŽCI OŽIVLJENI

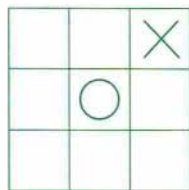
Gotovo se je vsak od nas vsaj enkrat že poskusil v igri, ki jo poznamo pod imenom *križci in krožci*. Vseeno na hitro ponovimo pravila. V 3×3 tabelo dva igralca – nasprotnika – izmenično vrisujeta eden križce, drugi krožce. Če komu od igralcev uspe zasesti eno od treh vrstic, treh stolpcev ali dveh diagonal, je zmagovalec.

Igro lahko predstavimo tudi drugače. Devet polj 3×3 tabele zamenjamo z devetimi točkami v ravnini. Če smo točke razporedili, kot kaže slika 2, lahko skozi vsake dve točke potegnemo osem ravnih črt, katerih vsaka povezuje tiste točke, ki so prej ležale bodisi v skupnem stolpcu bodisi v skupni vrstici bodisi na skupni diagonal. Igralca sedaj izmenično barvata točke, vsak s svojo barvo, zmaga pa tisti, ki s svojo barvo prvi pobarva vse točke neke črte.

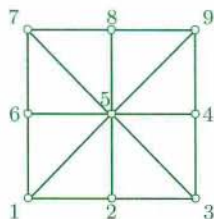
Zdrava pamet nam pove, da je igralec, ki začne, v prednosti in da je najpametneje pobarvati tisto točko, ki leži na največ črtah. S slike 2 je razvidno, da točka 5 leži na štirih črtah, točke 1, 3, 7 in 9 na treh črtah, točke 2, 4, 6 in 8 pa le na dveh črtah. Zato je za prvega igralca – recimo mu napadalec – najbolje, da pobarva točko 5. Drugi igralec – branilec – mora igrati pazljivo. Če zasede katero od točk, ki ležijo le na dveh črtah, bo lahko napadalec s pravilno igro zmagal. Če pa branilec v svoji prvi potezi zasede eno od točk 1, 3, 7 ali 9, bo uspel obdržati ravnotežje in pripeljati igro do neodločenega izida. S tem smo vse možnosti izčrpali.

Ostane nam dvojje: igro lahko opustimo ali pa jo izboljšamo. Poskusimo s slednjim. Sprememimo igralno desko s slike 2. Pomaknimo točki 4 in 6 na pol poti proti točki 5. Točke lahko sedaj povežemo, kot kaže slika 3. Dobili smo novo igralno desko, ki pa jo od prve loči pomembna razlika. Napadalec sedaj nima očitne najboljše prve poteze, saj vsaka točka leži na natanko treh črtah. S tega stališča so vse točke enakovredne.

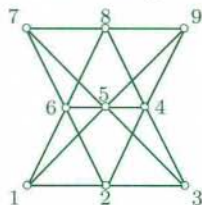
Denimo, da napadalec spet prične s točko 5. Kako naj odgovori branilec? Napadalec je s svojo potezo ogrozil tri črte, ki gredo skozi točko 5. Branilec sklepa, da je najpametneje zavarovati vsaj eno od teh črt,



Slika 1. Križci in krožci.



Slika 2. Križci in krožci – malo drugače.



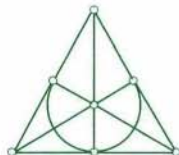
Slika 3. Papusova razporeditev.

recimo tisto, ki gre skozi točke 1, 5, 9, in odgovori s točko 1. Hitro vidimo, da se igra zanj ne bo dobro končala. Napadalec bo namreč zasedel točko 3 in po izsiljeni potezi branilca še točko 4. Branilca je postavil pred nerešljiv problem, zaščititi se pred dvema grožnjama hkrati. Kako naj torej igra branilec po začetni potezi napadalca? Je igra zanj izgubljena? Prepričan sem, da boste odgovor našli sami.

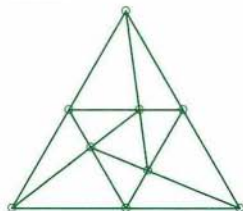
Medtem pa poskusimo poiskati še kakšno zanimivo igralno desko, ki jo odlikujejo podobne lastnosti kot desko s slike 3. Postavljeni smo pred naslednjo nalogo:

V ravnini razpostavi n točk in skozi vsake dve točki potegni n ravnih črt tako, da bo vsaka črta vsebovala tri točke in bo vsaka točka ležala na treh črtah.

Naloga je vse prej kot lahka. Tiste, ki bi radi na takšen način razpostavili manj kot devet točk, naj od brezupnih poskusov že na začetku odvrnem in vam zaupam, da naloga pri $n < 9$ ni rešljiva. Morda najbližje rešitvi pridemo, če narišemo sliko 4. Tu smo sedem točk povezali s šestimi ravnimi črtami in eno krivo. Podobno se nam godi tudi pri osmih točkah. Za $n = 9$ eno rešitev že poznamo, na sliki 5 pa je še ena. Trikotnik s slike 5 nam da idejo še za nove razporeditve na sliki 6. Bralec je gotovo opazil vzorec, po katerem lahko sam poišče razporeditve za poljubno mnogo točk. Več kot je točk, zanimivejša je igra in težje je vprašanje, ali lahko napadalec ob pravilni igri vedno zmaga.



Slika 4. Fanova razporeditev.

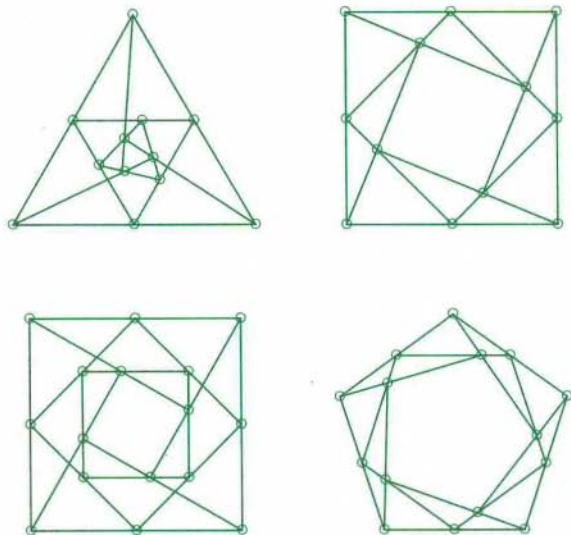


Slika 5. Trije trikotniki.

Posvetimo se še vprašanju, ali so na igralni deski, kjer vsaka točka leži na treh črtah, res vse začetne poteze enakovredne. Ali se vseeno ne more zgoditi, da ena začetna poteza branilcu dopušča zadovoljivo obrambo, druga pa ne? Ali mu jo vsaj nekoliko oteži? Odgovoriti na ta vprašanja ni lahko. V posebnem primeru pa lahko vseeno zatrdimo, da so res vse začetne poteze enakovredne. Oglejmo si ta primer podrobneje.

Imejmo razporeditev n točk in te točke poimenujmo kar z naravnimi števili $1, 2, \dots, n$. Permutaciji π teh točk, ki ima lastnost, da točke $\pi(i), \pi(j)$ in $\pi(k)$ ležijo na skupni črti natanko tedaj, ko na skupni črti ležijo točke i, j in k , rečemo *avtomorfizem* razporeditve. Permutacija neke množice je bijektivna preslikava te množice same nase. To pomeni, da

lahko permutacijo π predstavimo kot niz prvih n naravnih števil, kjer vsako število med 1 in n nastopi natanko enkrat. Točka $\pi(i)$ bo v tem nizu nastopala na i -tem mestu.



Slika 6. Še nekaj razporeditev.

Za zgled avtomorfizma si oglejmo še enkrat sliko 3. Permutacijo, ki zamenja tri točke zgornje vrstice s tremi točkami spodnje vrstice, točke na sredini pa pusti, kjer so, bi označili z nizom $(7, 8, 9, 4, 5, 6, 1, 2, 3)$. Prav hitro se prepričamo, da ta permutacija zadošča zahtevi avtomorfizma – črte res preslika v črte. Denimo točke 1, 5, 9 so se preslikale v točke 7, 5, 3. Podobno se je črta, ki povezuje točke 1, 2, 3, preslikala v črto, ki povezuje točke 7, 8, 9.

Vrnimo se k našemu vprašanju, ali so vse začetne poteze enakovredne. Denimo, da za dve točki i in j obstaja avtomorfizem razporeditve, ki točko i preslika v točko j . Označimo ta avtomorfizem s π . Trdimo, da sta tedaj začetni potezi i in j enakovredni v smislu, da napadalec lahko s pravilno igro zmaga po potezi i natanko tedaj, ko lahko zmaga po potezi j . V to se z lahkoto prepričamo, če opazimo, da vsakemu zaporedju potez i, i_2, i_3, \dots v primeru začetne poteze i ustreza v primeru začetne poteze j zaporedje potez $j, \pi(i_2), \pi(i_3), \dots$. Pri tem bo zaradi zahtevane lastnosti avtomorfizma (da točke na skupni črti preslika na točke, ki spet ležijo na

skupni črti) prvo zaporedje zmagovalno za napadalca natanko tedaj, ko bo zmagovalno tudi drugo zaporedje. Denimo, da ima naša razporeditev to lastnost, da za vsaki dve točki i in j obstaja neki avtomorfizem, ki eno preslika v drugo. Tedaj res lahko trdimo, da so vse začetne poteze enakovredne. Bralec naj sam premisli, ali imajo vse razmestitve, ki smo jih navedli do sedaj, to lastnost.

Za tiste, ki jih igranje križcev in krožcev dolgočasi, razmišljanje o avtomorfizmih pa jim ne gre od rok, naslednje vprašanje: Ali lahko vse razmestitve s slik 5 in 6 konstruiramo z ravnilom in šestilom? Za začetek se lahko spopadete s primerom s slike 5. Opozorim naj, da so trije trikotniki na sliki enakostranični, oglišča po velikosti srednjega od njih pa ležijo natanko na razpoloviščih stranic večjega. Kako v tem primeru s šestilom in ravnilom konstruirati oglišča notranjega trikotnika, da bodo nosilke njegovih stranic res vsebovale oglišča zunanjega trikotnika?

Primož Potočnik

RAZGIBANI NIZI

Rekli bomo, da je niz znakov *razgiban*, če ne vsebuje dveh enakih zaporednih strnjenih podnizov. To med drugim pomeni, da tak niz ne vsebuje dveh enakih zaporednih znakov. Primeri razgibanih nizov so ABC, ABAC, MARTIN; primeri nizov, ki niso razgibani, pa ABBA, BABA in RABARBARA.

Iz črk A in B lahko sestavimo šest razgibanih nizov (našteti so v abecednem vrstnem redu): A, AB, ABA, B, BA, BAB. Če pa uporabimo še dodatno črko C, lahko najdemo neskončno razgibanih nizov (dokaz, da je takih nizov res neskončno, ni prav preprost, zato mi kar verjemite na besedo).

Vaša naloga je, da poiščete po abecedi 1999. razgibani niz, ki je sestavljen le iz črk A, B in C. Ker bo iskani niz kar dolg, vam svetujem uporabo računalnika. Za lažje preverjanje pravilnega delovanja vaše rešitve vam povem, da je po abecedi deseti razgibani niz, sestavljen le iz črk A, B in C, enak

ABACABCAC,

petdeseti tak razgibani niz pa je

ABACABCACBABCABACBABCACBABCABACBABCACBABCACBABCAB.

Martin Juvan